

Gosiu, Alu, Szymonie, Dawidzie witam Was serdecznie, witam Rodziców. Niestety ze względu na zaistniałą sytuację, zagrażającą naszemu zdrowiu, czas przebywania w domu wydłużył się. Tak jak, informowałam Waszych Rodziców do 10 kwietnia 2020 r. dlatego w dalszym ciągu będziecie uczyli się w domu. Życzę dużo, zdrowia, wytrwałości i cierpliwości.

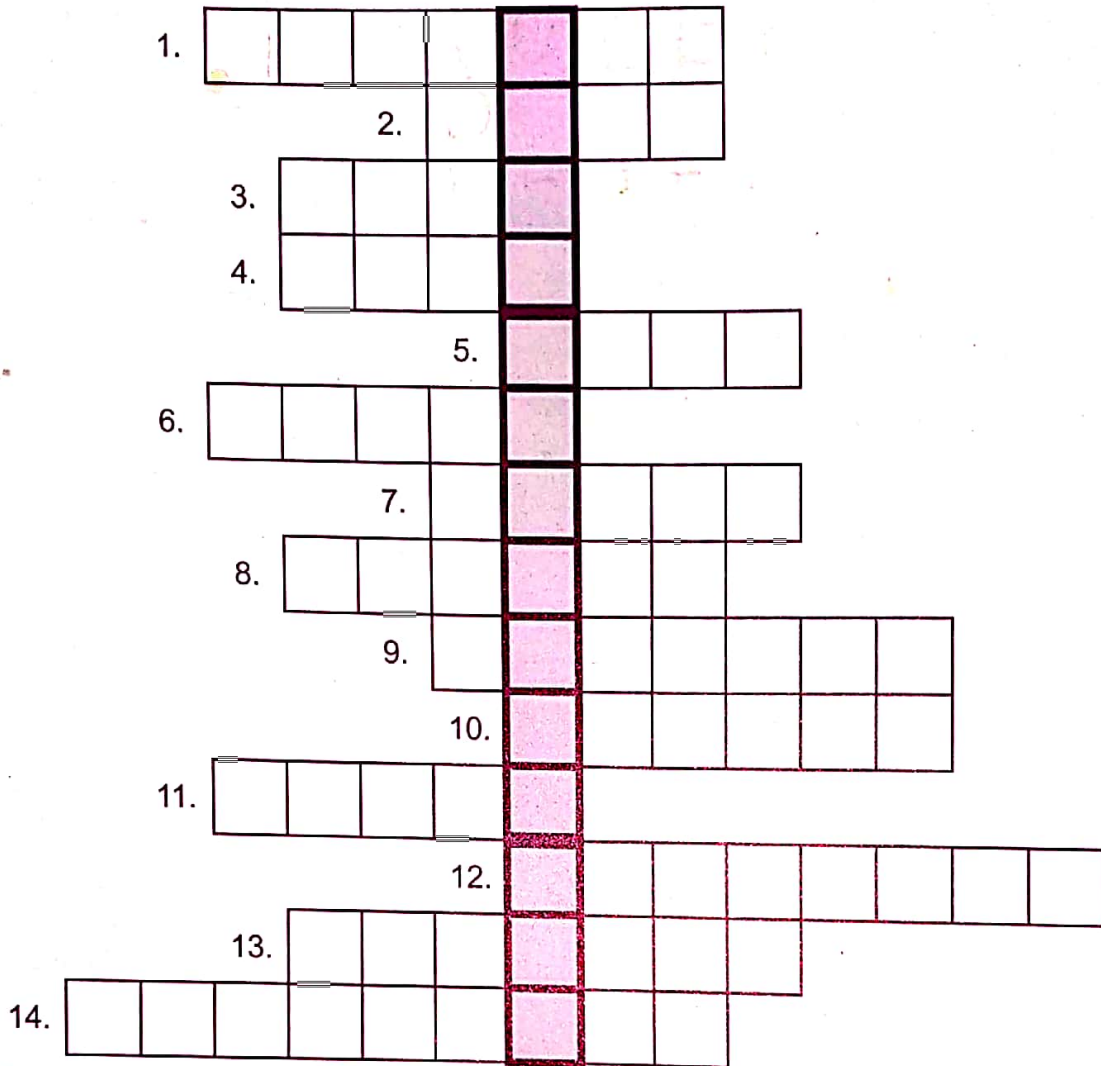
Pozdrawiam 😊😊😊

Wiesława Zajdel

Zadania praktyczne z Przystosowania do Pracy

1. Pomagaj w pracach porządkowych w domu:
 - posprzątaj swój pokój
2. Dbaj o kwiaty doniczkowe, podlewaj je. Zapytaj mamę o nazwy kwiatów i zapisz je w zeszycie. Możesz zrobić zdjęcie twoich roślin lub narysować je.

RELACJE MIĘDZY LUDŹMI



odpowiedzi: s. 80



4.



9.



2.



10.



14.



12.



1.



8.



11.



13.



5.



3.



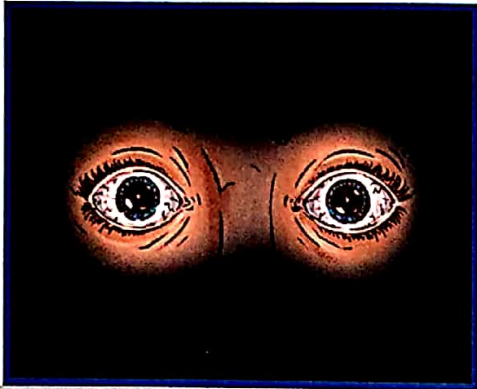
6.



7.

1. NAPISZ PO ŚLADZIE: STRACH.
PRZYJRZYJ SIĘ OBRAZKOM I POWIEDZ, KIEDY LUDZIE CZUJĄ STRACH.

STRACH



Blank space with a dotted pattern for writing.



Blank space with a dotted pattern for writing.



Blank space with a dotted pattern for writing.



Blank space with a dotted pattern for writing.

2. WYTNIJ WYRAZY I WKLEJ JE POD ODPOWIEDNIMI OBRAZKAMI.

CIEMNOŚĆ	GROŹNY PIES
BURZA	KRZYK

1. PRZECZYTAJ ZDANIA.

ZASTANÓW SIĘ, JAK INACZEJ MOŻESZ POWIEDZIEĆ, ŻE CZUJESZ STRACH.

BOJĘ SIĘ.

PRZESTRASZYŁEM SIĘ.
PRZESTRASZYŁAM SIĘ.

STRACH



JESTEM
PRZERAŻONY.
JESTEM
PRZERAŻONA.

JESTEM
ZDENERWOWANY.
JESTEM
ZDENERWOWANA.

2. DOKOŃCZ ZDANIA:

BOJĘ SIĘ, GDY...

JESTEM ZDENERWOWANY, GDY...

JESTEM ZDENERWOWANA, GDY...

JESTEM PRZERAŻONY, GDY...

JESTEM PRZERAŻONA, GDY...

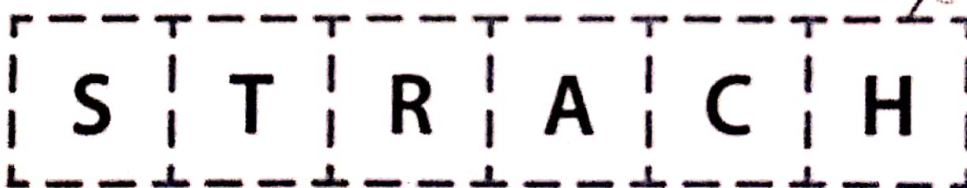
PRZESTRASZYŁEM SIĘ, GDY...

PRZESTRASZYŁAM SIĘ, GDY...

3. WYTNIJ LITERY.

UŁÓŻ WYRAZ STRACH.

WKLEJ DO ZESZYTU.



1. POŁĄCZ OBRAZKI, KTÓRE DO SIEBIE PASUJĄ.

TAK LUDZIE RADZĄ SOBIE ZE STRACHEM



2. POWIEDZ, JAK TY RADZISZ SOBIE ZE STRACHEM.

PEWNY START. ŚWIAT WOKÓŁ MNIE. Ja i mój dom

ZADANIE 68

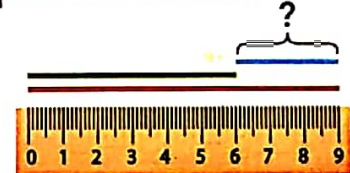
Tata Krzysia przeciął na dwie części listewkę o długości 9 cm.
Po przecięciu jedna część miała 6 cm.
Ile centymetrów miała druga część?

CO WIEMY?

Jaką długość miała listewka przed przecięciem?



Jaką długość miała jedna część listewki po przecięciu?



O CO PYTAMY?

Ile centymetrów miała druga część listewki?

$$\square - \square = \square$$

ODPOWIEDŹ:

Mama kupiła 8 kg truskawek.

Z 6 kg truskawek zrobiła kompot, a z tego, co zostało – dżem.

Z ilu kilogramów truskawek mama zrobiła dżem?

CO WIEMY?

Ile truskawek kupiła mama?

Z ilu kilogramów truskawek mama zrobiła kompot?


O CO PYTAMY?

Z ilu kilogramów truskawek mama zrobiła dżem?

$$\square - \square = \square$$

ODPOWIEDŹ:

1. Połącz kropki - dokończ brakujące części domku.
Pokoloruj go różnymi kredkami.



1. Dorysuj brakujące elementy rysunków.
Pokoloruj je.

